

jméno:.....

## HUDEBNÍ NAUKA 1. ROČNÍK B

### pololetní písemná práce, 1. pol. 2010/2011


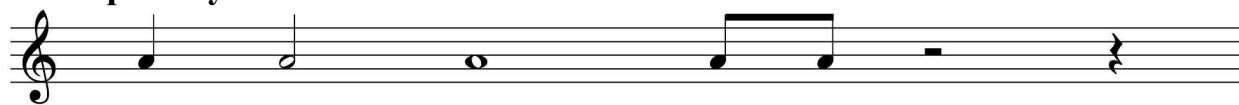
1) Napiš názvy not a jejich hodnotu (jestli je půlová, osminová, celá...)



2) Co znamená staccato a zapiš jej do not



3) Rytmické cvičení: doplň do prázdných taktů a použij i následující hodnoty a pomlky



4) Napiš následující pomlky a doplň na kolik se počítají

osminová

počítá se na .....



celá

počítá se na .....

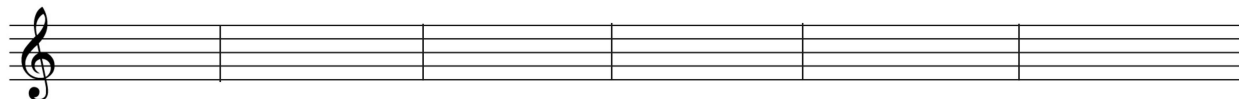


čtvrt'ová

počítá se na .....



5) Napiš noty a jejich délky:



**f<sup>2</sup>**  
osminová

**e<sup>1</sup>**  
celá

**a**  
čtvrt'ová

**d<sup>1</sup>**  
půlová

**c<sup>2</sup>**  
celá

**a<sup>1</sup>**  
čtvrt'ová